



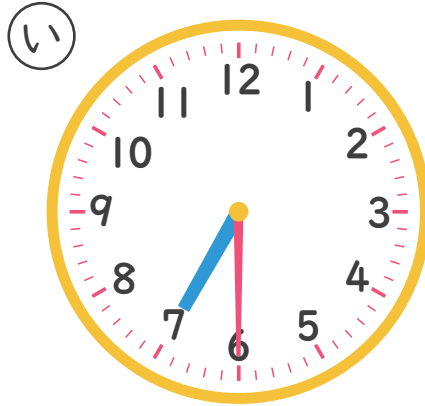
# なんじ なんじはん

ただしいとけいを こたえましょう  
なんじはん！

ねん

くみ なまえ

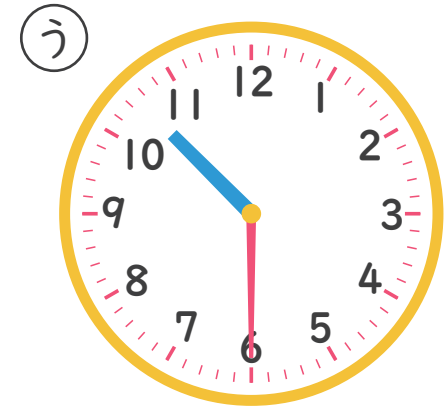
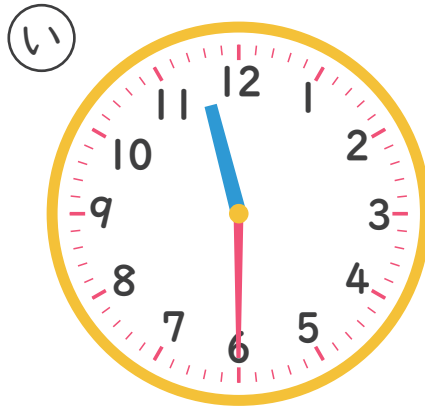
1 7じはんのとけいは どれですか。



こたえ

---

2 11じはんのとけいは どれですか。



こたえ

---



# なんじ なんじはん

ただしいとけいを こたえましょう

なんじはん2

ねん

くみ なまえ

1 9じはんのとけいはどれですか。

あ



い



う



こたえ


---

2 2じはんのとけいはどれですか。

あ



い



う



こたえ

---



# なんじ なんじはん

ただしいとけいを こたえましょう

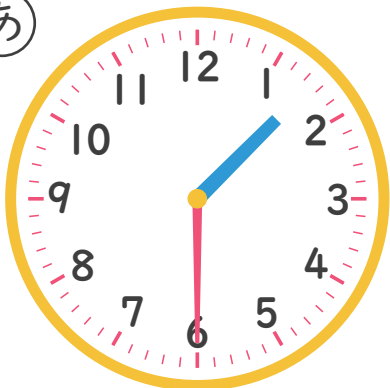
なんじはん 3

ねん

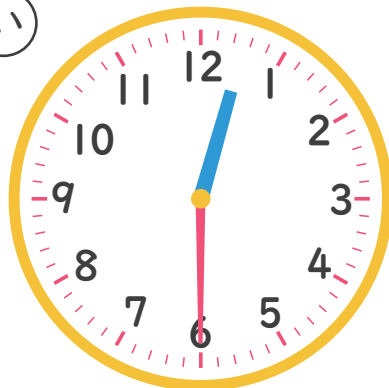
くみ なまえ

1 1じはんのとけいはどれですか。

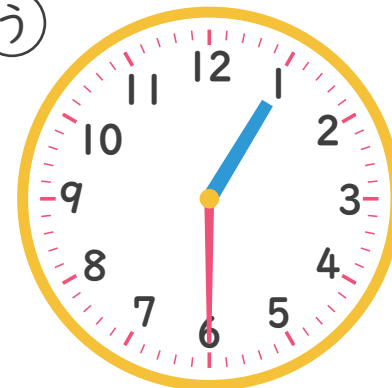
あ



い



う

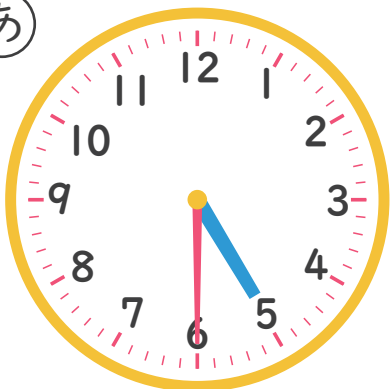


こたえ

---

2 5じはんのとけいはどれですか。

あ



い



う



こたえ

---



# なんじ なんじはん

ただしいとけいを こたえましょう

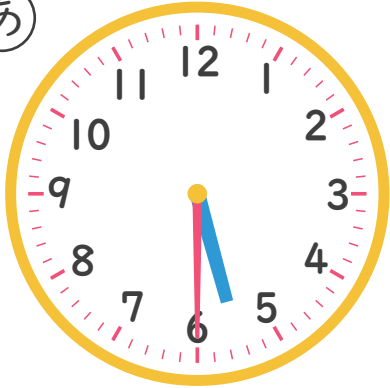
なんじはん 4

ねん

くみ なまえ

1 4じはんのとけいは どれですか。

あ



い



う

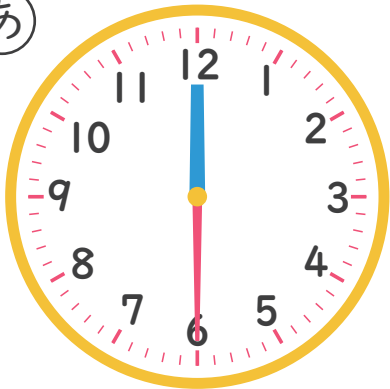


こたえ

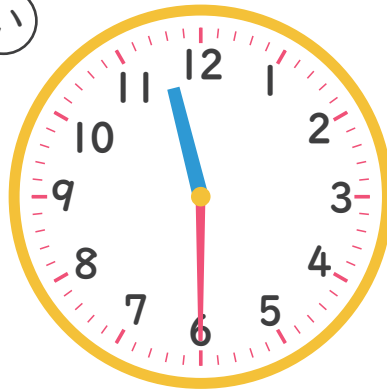
---

2 12じはんのとけいは どれですか。

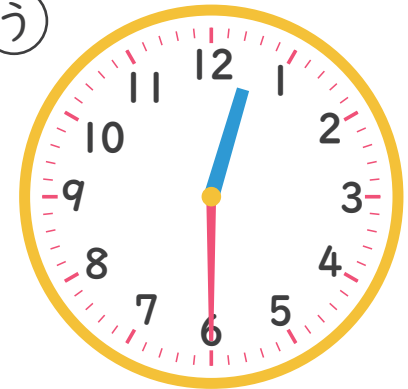
あ



い



う



こたえ

---



# なんじ なんじはん

ただしいとけいを こたえましょう

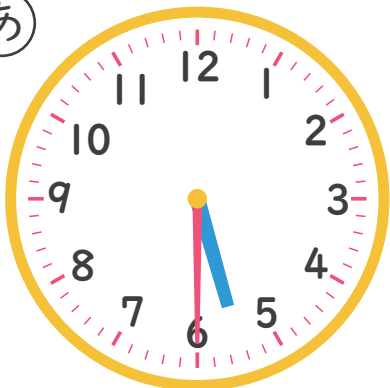
なんじはん5

ねん

くみ なまえ

1 6じはんのとけいはどれですか。

あ



い



う

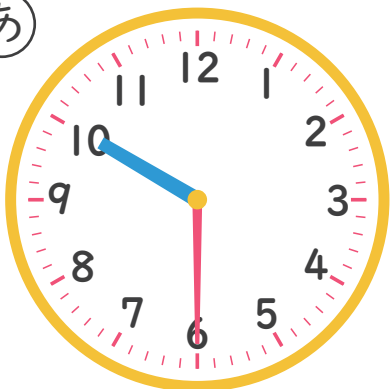


こたえ

---

2 10じはんのとけいはどれですか。

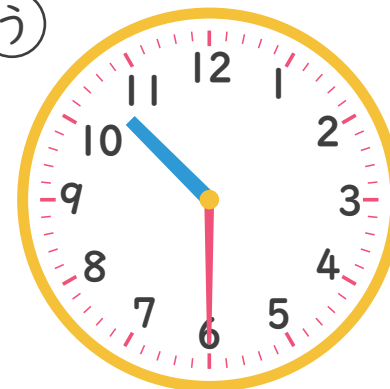
あ



い



う



こたえ

---



# なんじ なんじはん

ただしいとけいを こたえましょう

なんじはん 6

ねん

くみ なまえ

1 3じはんのとけいはどれですか。

あ



い



う



こたえ

---

2 8じはんのとけいはどれですか。

あ



い



う



こたえ

---



# なんじ なんじはん

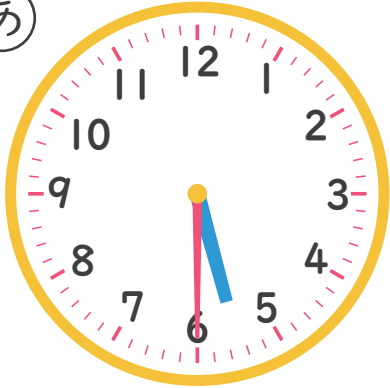
ただしいとけいを こたえましょう  
なんじはん 7

ねん

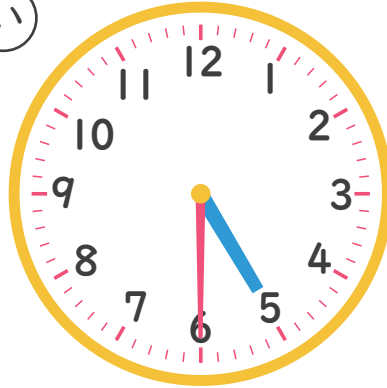
くみ なまえ

1 5じはんのとけいはどれですか。

あ



い



う

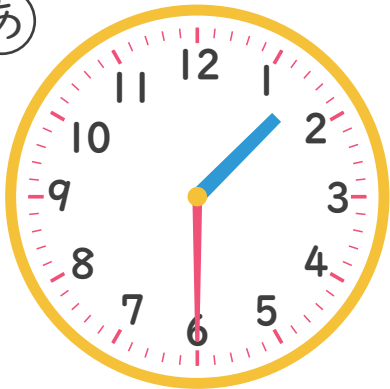


こたえ

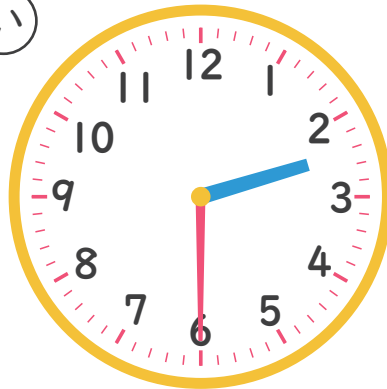
---

2 2じはんのとけいはどれですか。

あ



い



う



こたえ

---



# なんじ なんじはん

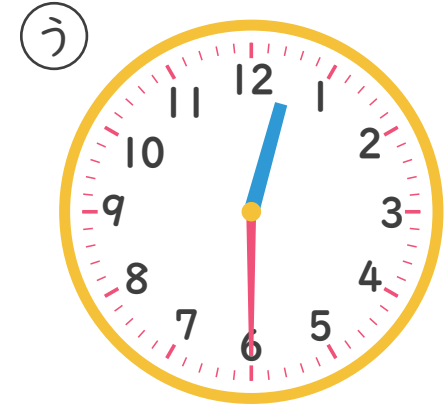
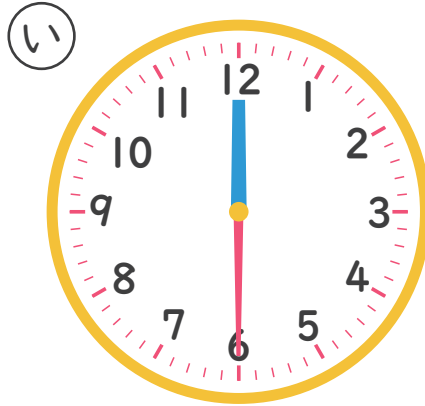
ただしいとけいを こたえましょう

なんじはん 8

ねん

くみ なまえ

1 12じはんのとけいは どれですか。



こたえ

---

2 9じはんのとけいは どれですか。



こたえ

---





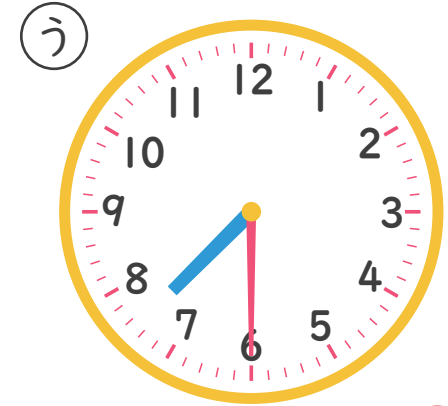
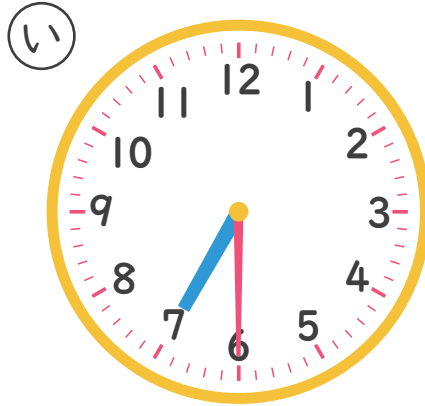
# なんじ なんじはん

ただしいとけいを こたえましょう  
なんじはん！

ねん

くみ なまえ

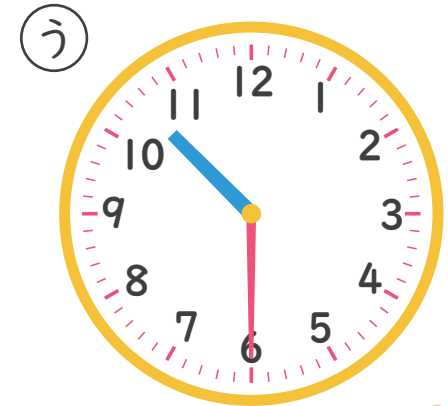
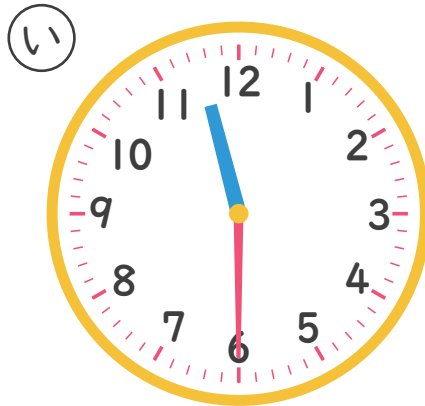
1 7じはんのとけいは どれですか。



こたえ

う

2 11じはんのとけいは どれですか。



こたえ

い



# なんじ なんじはん

ただしいとけいを こたえましょう

なんじはん 2

ねん

くみ なまえ

1 9じはんのとけいはどれですか。

あ



い



う



こたえ


い

2 2じはんのとけいはどれですか。

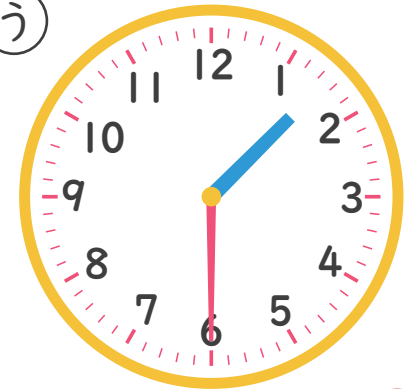
あ



い



う



こたえ

あ



# なんじ なんじはん

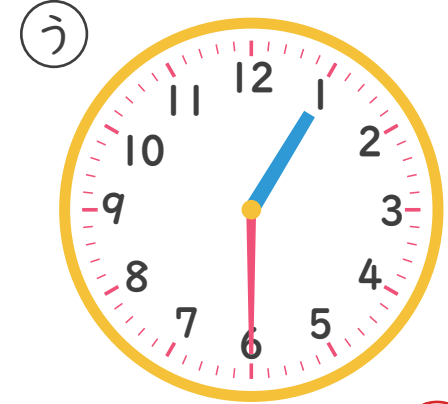
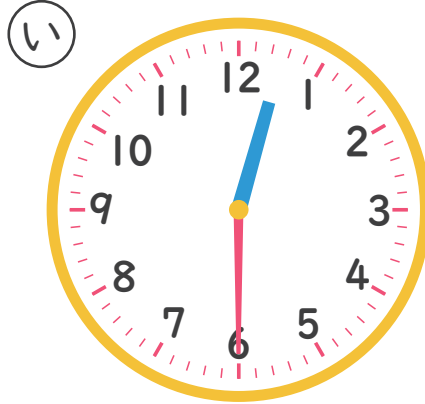
ただしいとけいを こたえましょう

なんじはん 3

ねん

くみ なまえ

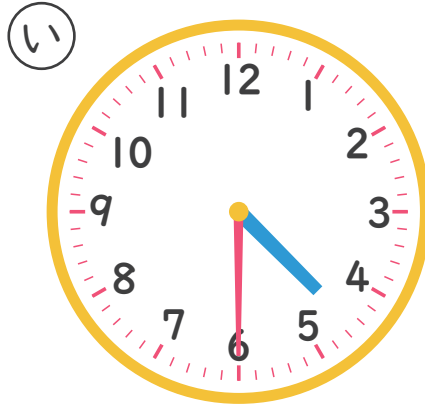
1 1じはんのとけいはどれですか。



こたえ

あ

2 5じはんのとけいはどれですか。



こたえ

う



# なんじ なんじはん

ただしいとけいを こたえましょう

なんじはん 4

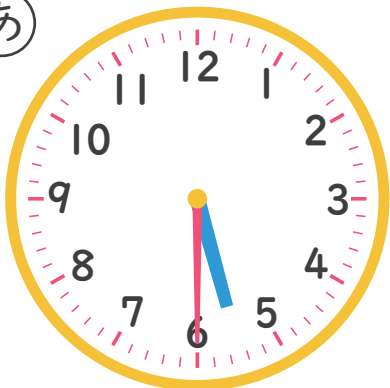
ねん

くみ

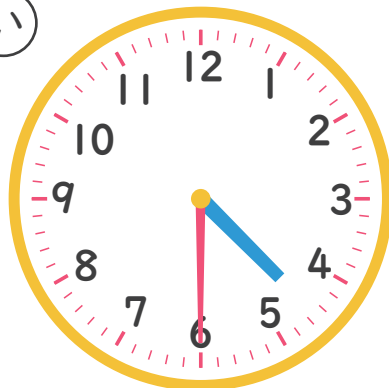
なまえ

1 4じはんのとけいはどれですか。

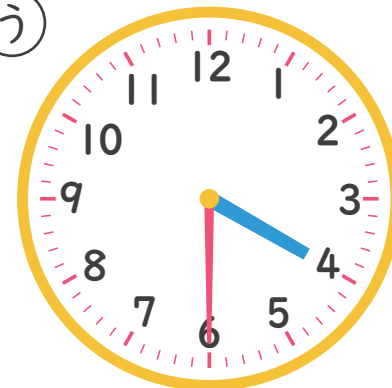
あ



い



う

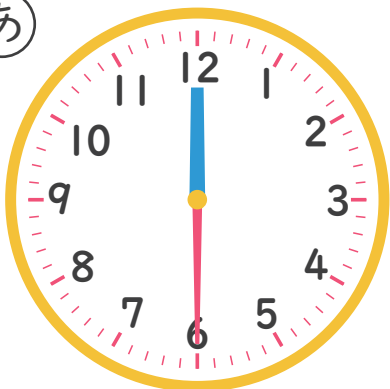


こたえ

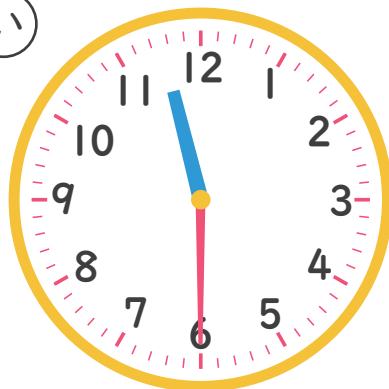
い

2 12じはんのとけいはどれですか。

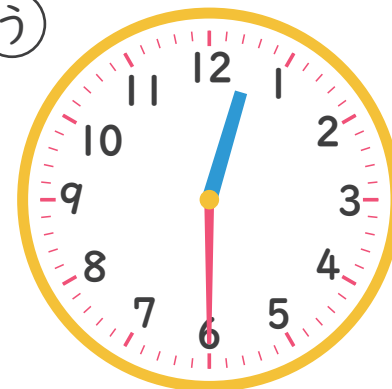
あ



い



う



こたえ

う



# なんじ なんじはん

ただしいとけいを こたえましょう

なんじはん 5

ねん

くみ なまえ

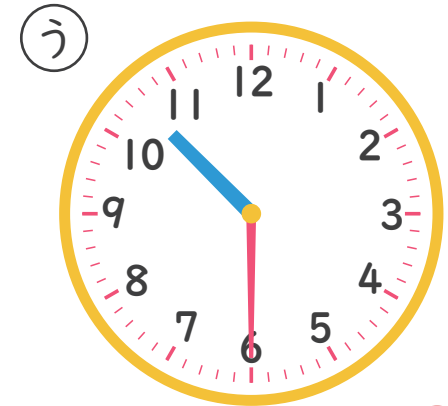
1 6じはんのとけいはどれですか。



こたえ

う

2 10じはんのとけいはどれですか。



こたえ

う



# なんじ なんじはん

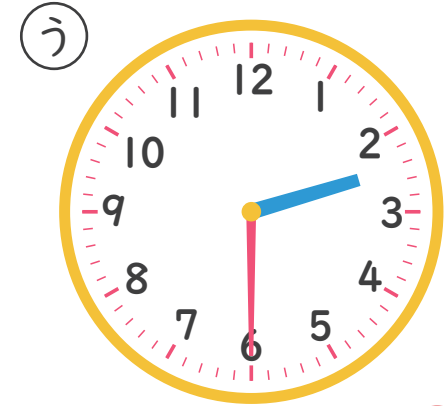
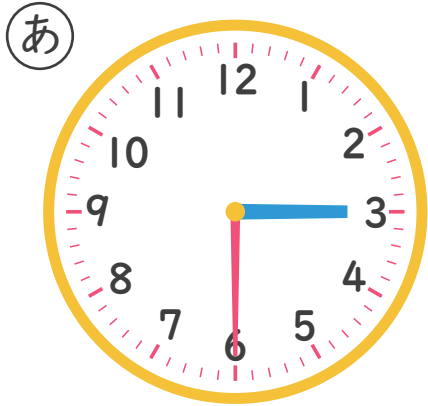
ただしいとけいを こたえましょう

なんじはん 6

ねん

くみ なまえ


1 3じはんのとけいは どれですか。



こたえ

い

2 8じはんのとけいは どれですか。



こたえ

あ



# なんじ なんじはん

ただしいとけいを こたえましょう

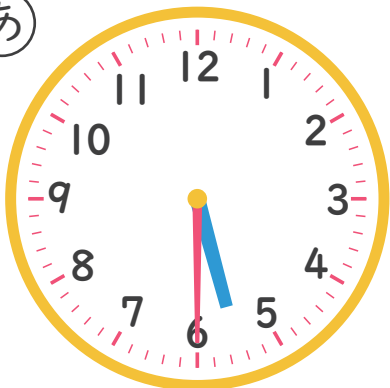
なんじはん 7

ねん

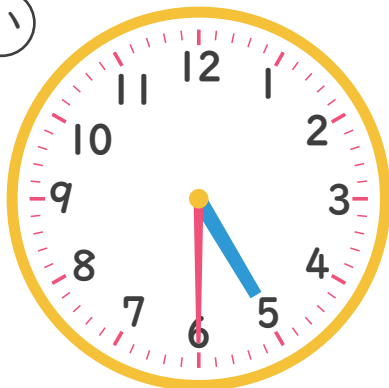
くみ なまえ

1 5じはんのとけいはどれですか。

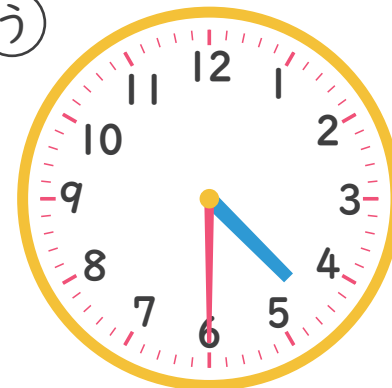
あ



い



う

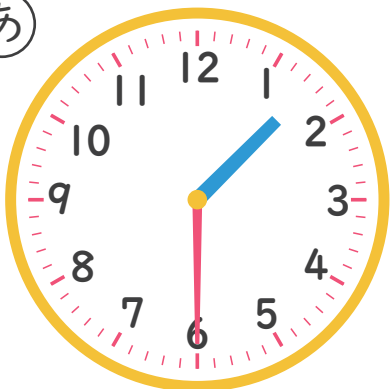


こたえ

あ

2 2じはんのとけいはどれですか。

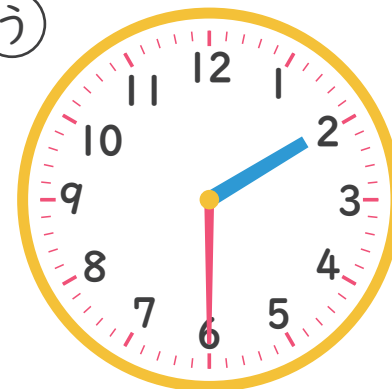
あ



い



う



こたえ

い



# なんじ なんじはん

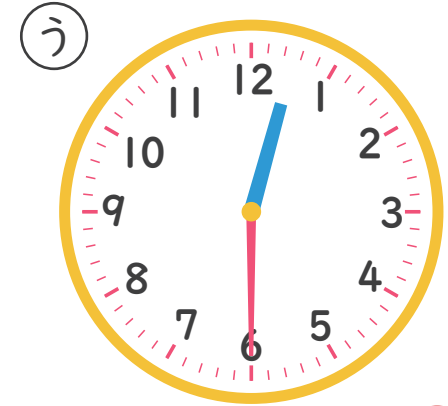
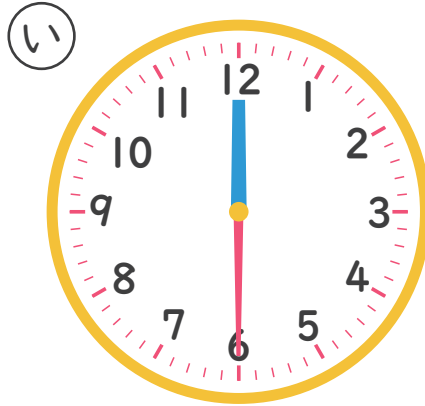
ただしいとけいを こたえましょう

なんじはん 8

ねん

くみ なまえ

1 12じはんのとけいは どれですか。



こたえ

う

2 9じはんのとけいは どれですか。



こたえ

い